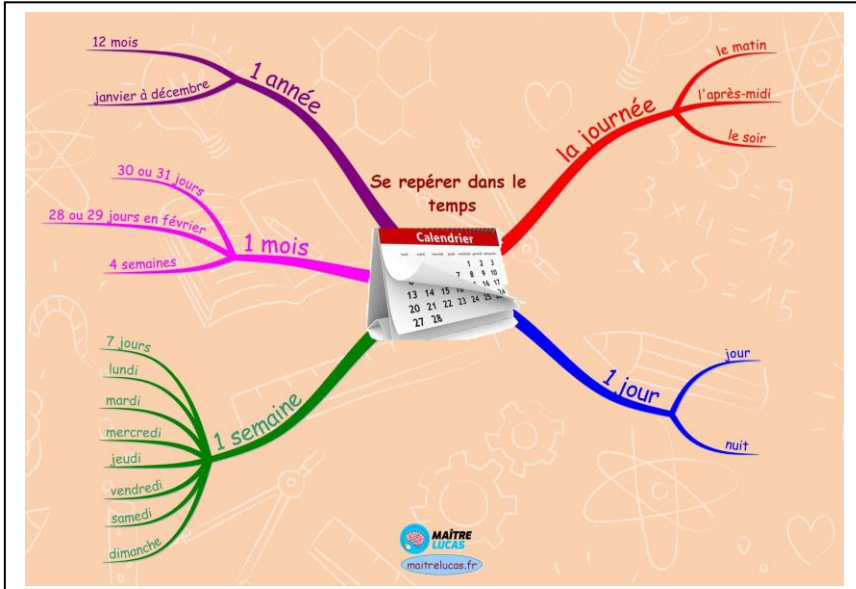


Se repérer dans le temps : De la Préhistoire à l'Histoire


Introduction :

1) Pour savoir où il se trouve, un voyageur a besoin de repères. L'Histoire est un voyage dans le passé : il faut donc se repérer dans le temps. Comment peut-on ?



On peut utiliser les mots : hier, aujourd'hui, demain et exprimer le passé, le présent et le futur.

2) Quels documents utilisent l'historien ?



I] Les repères historiques : La chronologie.

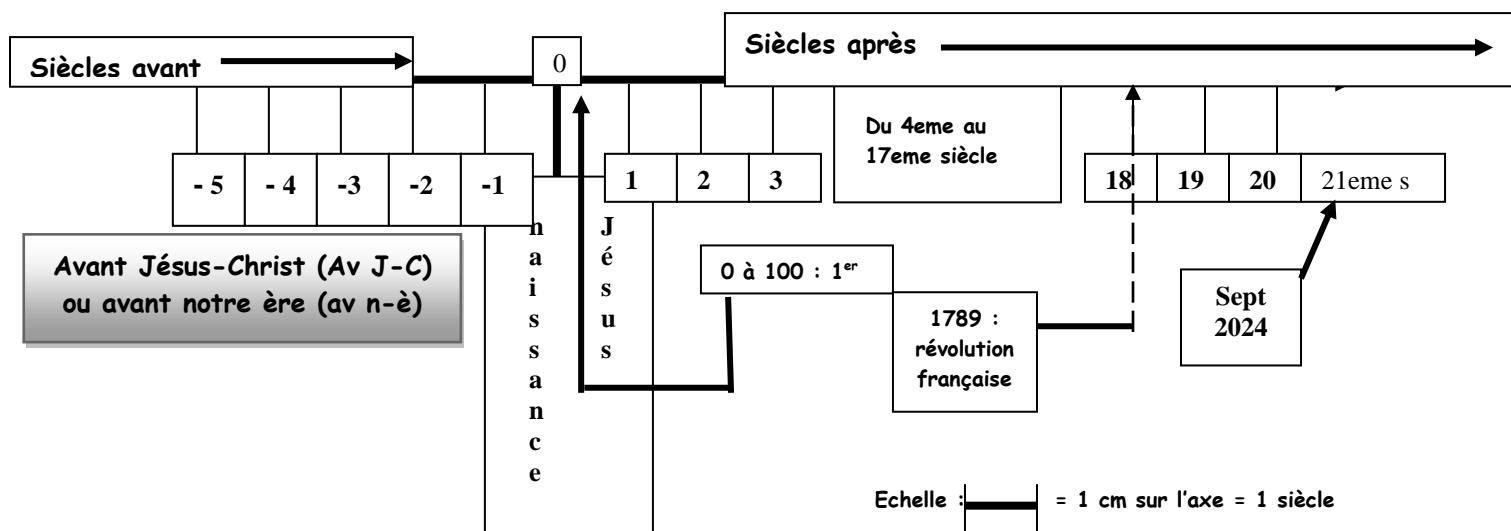
1) Pour faciliter l'étude du passé, le temps est divisé en périodes plus ou moins longues :

- ✚ Une ère : Une longue période marquée par de profonds changements
- ✚ Millénaire :
- ✚ Centenaire :
- ✚ Siècle :
- ✚ Année :
- ✚ Mois :
- ✚ Jour :
- ✚ Heure :

- ✚ Minute :
- 2) Pour dater un événement précisément on utilise la date :
- 3) Toutes les dates sont inscrites sur un calendrier. Quel événement marque le début de **notre** calendrier ?
- Est-ce pour tout le monde pareil ? Pourquoi ?
-
- 4) Nous sommes en 2024, Nous vivons ausiècle de l'ère chrétienne.
Pour les juifs nous sommes en 5784, pour les musulmans 1445

II] A quel siècle correspond une date ?

Informations générales : Un axe chronologique : Echelle du temps en siècle.



1) S'il s'agit d'une date à 4 chiffres :

1789, il faut prendre les deux premiers chiffres et rajouter 1.
 $17 + 1 = 18$ donc c'est XVIII^{ème} siècle.

2) S'il s'agit d'une date à 3 chiffres :

476 : Le chiffre des centaines + 1.
 Soit $4 + 1 = 5$ donc c'est le V^{ème} siècle.

En fait, dans les 2 cas, tu peux éliminer les deux derniers chiffres et rajouter un à ce qui reste.

III] Quelques problèmes : si vous avez une date à un ou deux chiffres.

Ex +9 ap JC en fait tu peux dans ton esprit ou sur ta feuille rajouter Trois zéros 0009, afin d'avoir une date à quatre chiffres (comme précédemment). Et si nous enlevons les deux derniers il reste 00.

Donc $00 + 1 = 1$ donc c'est le I^{er} Siècle après JC.

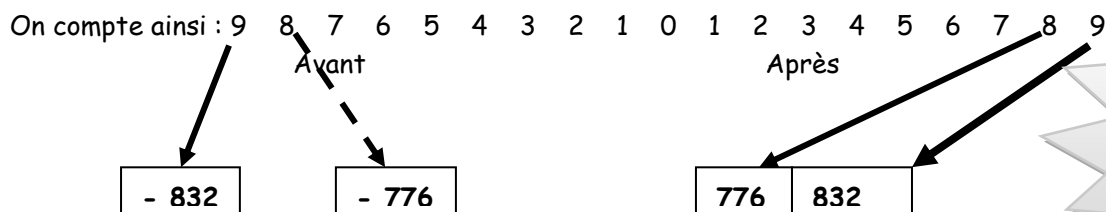
Pour une date à deux chiffres, 71 = 0071. Et si nous enlevons les deux derniers, il reste 00.

Donc $00 + 1 = 1$ c'est donc le I^{er} siècle ap JC.

Pour une date à un ou deux chiffres se sera forcément le 1^{er} siècle mais il faudra regarder le signe qui se trouve devant le chiffre ou le nombre pour savoir si vous êtes avant ou après JC.

En outre, si vous êtes avant la naissance de JC le système se modifie un peu.

Ex : - 832 = IX^e siècle mais cet événement est plus ancien que les jeux olympiques - 776.



ATTENTION
unité : siècle

Une autre particularité :

Quand nous étions en l'an 2000, nous étions toujours au XX^{ème} siècle, Pour entrer dans le XXI^{ème} siècle, il a fallu attendre 2001. Donc en 1800, nous sommes au XVIII^{ème} et en 1801 au XIX^{ème} siècle. Car un siècle = 100 ans de 1 à 100 c'est à dire de 1901 à 2000 (soit 100 ans).



Les chiffres romains :

1 : I	14 : XIV
2 : II	15 : XV
3 : III	16 : XVI
4 : IV	17 : XVII
5 : V	18 : XVIII
6 : VI	19 : XIX
7 : VII	20 : XX
8 : VIII	21 : XXI
9 : IX	
10 : X	
11 : XI	
12 : XII	
13 : XIII	

IV] EXERCICES

Calcul de durée :

a) A quel âge sont-ils morts ? Et dans quels siècles ont-ils vécu ?

Complète le tableau.

Personnages	Leur âge à leur mort	Siècles où ils ont vécu
Jules César (-101 ; -44).		
Périclès (-495 ; -429)		
Horace -64 ; 3)		
Henri IV (1553 ; 1610)		
Général De Gaulle (1890 ; 1970)		

Traduit ces dates en siècle (en chiffres arabes et romains)

DATES	Siècles en chiffres arabes	Siècles en chiffres romains
1200		
-476		
1957		
999		
1301		
70		
1790		
-5		
1894		
812		
1453		
-776		
25		
-12		
186		
1914		
2002		
99		
101		

c) Les grandes périodes du passé :

Les historiens divisent notre passé humain en deux grandes périodes :

✚ Avant l'invention de l'écriture :

✚ Après l'invention de l'écriture :

La période historique est divisée en 5 grandes époques :

Place le nom des 5 périodes suivantes :

L'époque contemporaine, l'Antiquité, la Préhistoire,

Les Temps Modernes, le Moyen âge.

Légende de la frise chronologique

- ✚ La qui débute avec l'apparition de l'Homme aux environs de 2.8 millions d'années av n-è et finit avec l'invention de l'écriture aux environs du

1 Bleu
- ✚ L'..... ou qui débute avec l'apparition de l'écriture aux environs du IV^{ème} millénaire av n-è et se termine à la chute de Rome à la fin du V^{ème} siècle.

2 Vert
- ✚ Le qui débute à la chute de l'Empire Romain à la fin du..... et finit lors de la découverte de l'Amérique par Christophe Colomb en.....

3 Rouge
- ✚ Les qui commencent lors de la découverte de l'Amérique par C. Colomb..... et se terminent à la Révolution Française en

4 Orange
- ✚ L'..... qui débute avec la Révolution Française en..... et se finit de nos jours En.....

5 Jaune

TITRE : La frise chronologique :

